	<b>PRUEBA DE MATEMÁTICA</b> Unidad Inicial	PUNTAJE:	CALIFICACIÓN:
		_____ / <b>63.</b> 60% de exigencia	

<b>NOMBRE:</b>		<b>CURSO:</b>
<b>FECHA:</b>	Lunes 08 de abril de 2024.	1º AÑO BÁSICO
<b>PROFESORA:</b>	Srta. María Cristina Chandía Iribarra.	

**INSTRUCCIONES:**








- Escucha atentamente las instrucciones entregadas y realiza las acciones solicitadas de forma individual y en silencio. Si tienes alguna duda, pregunta a tu profesor(a).
- Cuando termines, revisa tu prueba antes de entregarla y espera en silencio hasta que la profesora la retire.
- Es considerado falta grave copiar, proporcionar o solicitar información durante la prueba, por lo que, en este caso se retirará la evaluación y se informará al apoderado, dejando registro en la hoja de vida, reagendado la prueba con una ponderación de 80% de exigencia mínima.

**OBJETIVO DE APRENDIZAJE:**  
 OA3 Leer números del 0 al 20 y representarlos en forma concreta, pictórica y simbólica.

**1) La profesora te entregará un conjunto de elementos que debes contar y anotar el número de acuerdo su cantidad. (2 pts. c/1.total 4 pts.)**

Conjunto de elementos	¿Cuántos elementos hay?
1º Conjunto de elementos: bloques.	
2º Conjunto de elementos: lápices.	





**2) Cuenta los elementos y une con una línea con el número que se relaciona. Sigue el ejemplo. (0.5 pt. c/1.total 3 pts.)**

		<b>4</b>
		<b>5</b>
		<b>6</b>
		<b>3</b>
		<b>2</b>
		<b>7</b>
		<b>8</b>

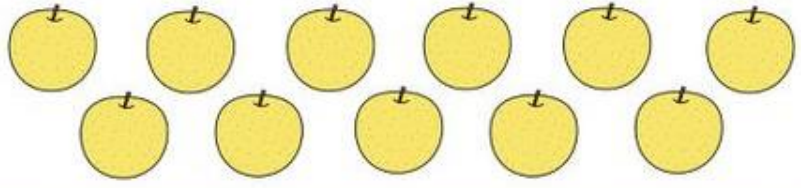
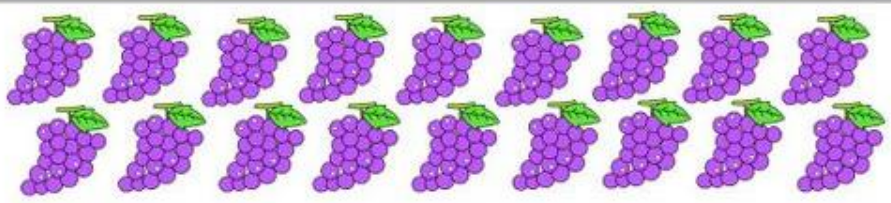


*Note: A line is drawn from the first dot on the vertical line to the number 3.*

*Buena Suerte!*

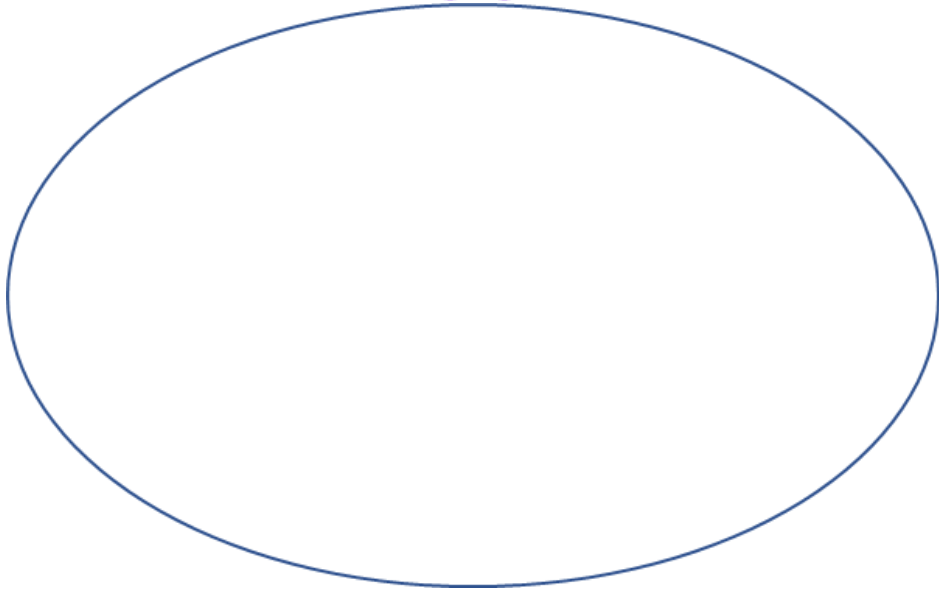
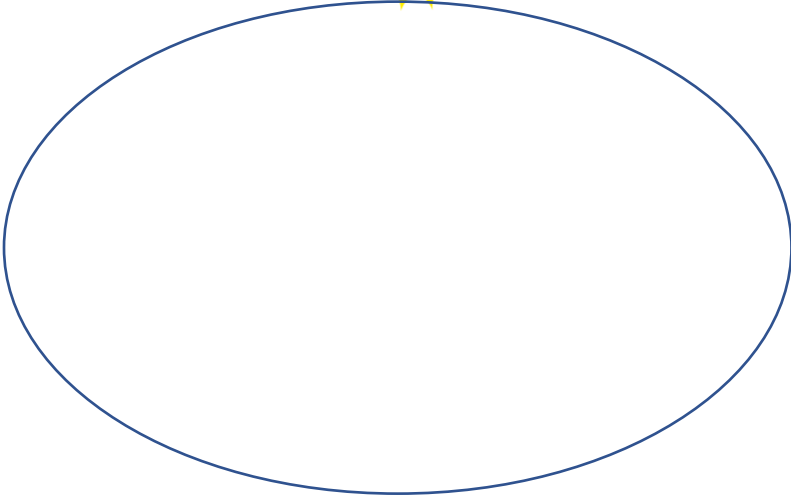
3) Completa las secuencias escribiendo los números que faltan. (1 pt. c/1.Total 20 pts.)

	3	4					
	6	7					
	9	10					
	11	12					

4) Cuenta los elementos y encierra el número que se relaciona con la cantidad. (1.5 pts. c/1.total 6 pts.)

									
11	12	13	14	15	16	17	18	19	20
									
11	12	13	14	15	16	17	18	19	20
									
11	12	13	14	15	16	17	18	19	20
									
11	12	13	14	15	16	17	18	19	20

5) Dibuja los elementos que se indican de acuerdo a cada número. (2 pts. c/1.total 4 pts.)



6) Colorea los globos que indica cada número. (1.5 pts. c/1.total 6 pts.)

15



13



20



11



Buena  
Suerte!

7) Cuenta los animales y escribe en el círculo su cantidad. (2 pts. c/1.total 10 pts.)

The image shows five rows of animals, each followed by a large empty green circle for writing the count:

- Row 1: 12 cows (6 in the top row, 6 in the bottom row).
- Row 2: 18 pigs (10 in the top row, 8 in the bottom row).
- Row 3: 14 dogs (7 in the top row, 7 in the bottom row).
- Row 4: 14 sheep (8 in the top row, 6 in the bottom row).
- Row 5: 10 horses (6 in the top row, 4 in the bottom row).

8) Escribe los números que dictará la profesora. (1.5 pts. c/1.total 9 pts.)


9) Preparando mi SIMCE. ¿Cuál es el número dieciséis? (1 p.)

- a) 17.
- b) 16.
- c) 15.